

たし算とひき算(1)

答えをア～ウから1つ選んで書きましょう。(1つ10点)

- 1 こももは、朝ごはんにレーズンパン2個とあんパン1個を食べました。全部で何個のパンを食べましたか?



レーズンパン



あんパン

ア. 2個 イ. 3個 ウ. 4個

答え

- 2 ももの家には、リビングに2つ、寝室に1つ、子ども部屋に2つのライトがあります。全部でライトはいくつありますか?



ア. 3つ イ. 4つ ウ. 5つ

答え

- 3 スーパーで、レトルトみそ汁を買いました。こももが選んだのは8食入り、ももが選んだのは6食入りでした。全部で何食ですか?



ア. 12食 イ. 14食 ウ. 16食

答え

- 4 水やお湯を入れるだけで食べられるようになるお米とおみそ汁があります。お米に必要な水が180mL、おみそ汁に必要な水が160mLのとき、全部で水は何mL必要ですか? ※mL(ミリリットル)は水の量の単位だよ。



ア. 330mL イ. 340mL ウ. 350mL

答え



たし算とひき算(2)

- 5 こももはコンビニで170円のパンと88円の飲み物を買いました。全部でいくらですか？



ア. 248円 イ. 250円 ウ. 258円

こた
答え

- 6 ももの家には、こももが大好きなレトルトカレーがいつも4つあります。昨日、夕食で2つ食べました。レトルトカレーは残りいくつでしょうか。



ア. 2つ イ. 3つ ウ. 4つ

こた
答え

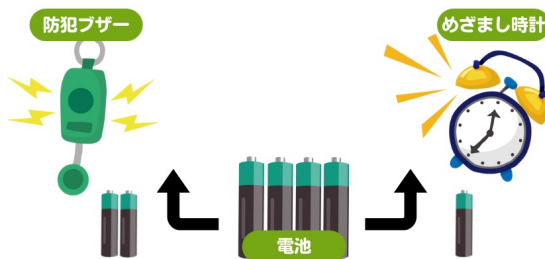
- 7 ペットボトルの麦茶が24本入った箱があります。ももとこももで5本飲みました。残りの麦茶は何本ありますか？



ア. 18本 イ. 19本 ウ. 20本

こた
答え

- 8 こももの防犯ブザーには電池が2本、めざまし時計には1本必要です。4本入りの電池を買った時、何本あまりますか。




ア. 1本 イ. 2本 ウ. 3本

こた
答え



たし算とひき算(3)


- 9 アルファ米をお湯で作ります。お湯を入れてからできあがるまで15分かかります。お昼の12時に食べるためには、いつお湯を入れればよいでしょうか。



ア. 11時15分 イ. 11時30分
ウ. 11時45分

こた
答え

- 10 ももは500mLのお湯をわかしました。カップラーメンに330mL使いました。残りは何mLでしょうか。 ※mL(ミリリットル)は水の量の単位だよ。



ア. 130mL イ. 170mL ウ. 210mL

こた
答え

