

たし算とひき算(1)

計算をしましょう。(1つ10点)

- 1 こももは、朝ごはんにレーズンパン2個とあんパン1個を食べました。全部で何個のパンを食べましたか?



レーズンパン

あんパン

しき
式

こた
答え

こ
個

- 2 ももの家には、リビングに2つ、寝室に1つ、子ども部屋に2つのライトがあります。全部でライトはいくつありますか?



リビング

寝室

子ども部屋

しき
式

こた
答え

つ

- 3 スーパーで、レトルトみそ汁を買いました。こももが選んだのは8食入り、ももが選んだのは6食入りでした。全部で何食ですか?



こもも

もも

しき
式

こた
答え

しよく
食

- 4 水やお湯を入れるだけで食べられるようになるお米とおみそ汁があります。お米に必要な水が180mL、おみそ汁に必要な水が160mLのとき、全部で水は何mL必要ですか? ※mL(ミリリットル)は水の量の単位だよ。



お米
(アルファ米)

みそ汁
(レトルトなど)

180mL

160mL

しき
式

こた
答え

ミリリットル
mL



たし算とひき算(2)

- 5 こももはコンビニで170円のパンと88円の飲み物を買いました。全部でいくらですか？



しき式

こた答え えん円

- 6 ももの家には、こももが大好きなレトルトカレーがいつも4つあります。昨日、夕食で2つ食べました。レトルトカレーは残りいくつでしょう。



しき式

こた答え つ

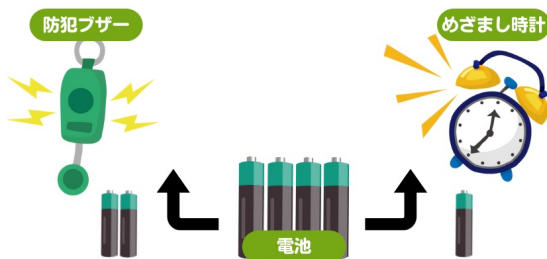
- 7 ペットボトルの麦茶が24本入った箱があります。ももとこももで5本飲みました。残りの麦茶は何本ありますか？



しき式

こた答え ほん本

- 8 こももの防犯ブザーには電池が2本、めざまし時計には1本必要です。4本入りの電池を買った時、何本あまりますか。




しき式

こた答え ほん本



たし算とひき算(3)


- 9 アルファ米をお湯で作ります。お湯を入れてからできあがるまで15分かかります。お昼の12時に食べるためには、いつお湯を入れればよいでしょうか。



式

答え 時 分

- 10 ももは500mLのお湯をわかしました。カップラーメンに330mL使いました。残りは何mLでしょうか。 ※mL(ミリリットル)は水の量の単位だよ。



式

答え mL

