

たし算とひき算(1)

答えをア～ウから1つ選んで書きましょう。(1つ20点)

1 ももの家の水道が止まってしまいました。

給水所に行き、ももは大きいポリタンクに7.2L、こももは小さいバケツに2.5Lの水をくみました。水は合わせて何Lですか。

※L(リットル)は水の量の単位だよ。



7.2L


2.5L

ア. 4.7L イ. 7.7L ウ. 9.7L

答え

2 ヘルメットが25個あります。18人がかぶっていききました。

残ったヘルメットは何個でしょう。

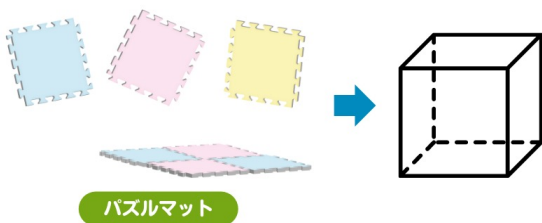


ア. 6個 イ. 7個 ウ. 8個

答え

3 パズルマットでサイコロの形(立方体)を作ります。

パズルマットは何枚必要ですか?



ア. 4枚 イ. 5枚 ウ. 6枚

答え



たし算とひき算(2)

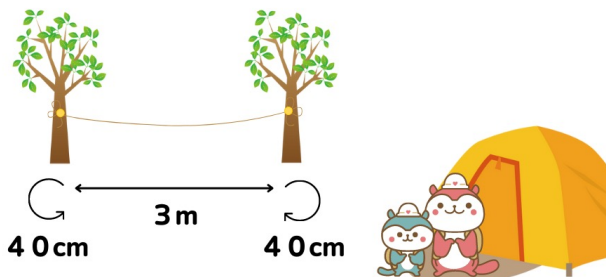
- 4 パックご飯をレンジで2分、レトルトカレーをレンジで1分40秒あたためます。1台のレンジを順番に使う時、全部あたためるのに何分何秒かかりますか？



ア. 2分40秒 イ. 3分 ウ. 3分40秒

答え

- 5 ももとももはキャンプに来ました。物干し用に木から木へロープをむすびます。木と木のあいだが3m、木にむすびつけるのにそれぞれ40cm使う場合、ロープは何m何cm必要ですか。



ア. 3m40cm イ. 3m80cm
ウ. 4m40cm

答え

