

たし算とひき算(1)

計算をしましょう。(1つ20点)

- 1 ももの家の水道が止まってしまいました。
給水所に行き、ももは大きいポリタンクに7.2L、こももは小さいバケツに2.5Lの水をくみました。水は合わせて何Lですか。
※L(リットル)は水の量の単位だよ。

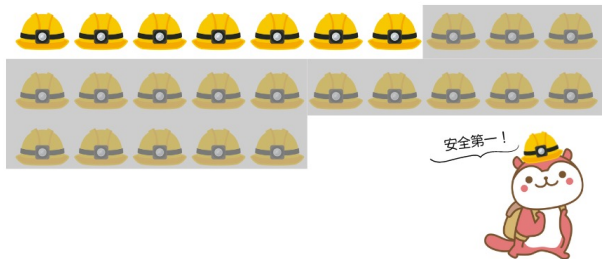


しき
式

こた
答え

リットル
L

- 2 ヘルメットが25個あります。18人がかぶっていきました。
残ったヘルメットは何個でしょう。

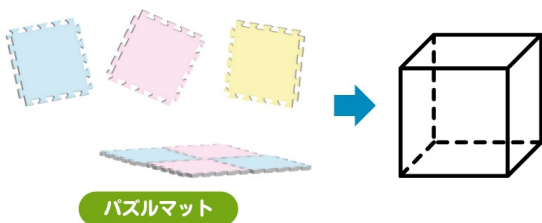


しき
式

こた
答え

こ
個

- 3 パズルマットでサイコロの形(立方体)を作ります。
パズルマットは何枚必要ですか?



しき
式

こた
答え

まい
枚



たし算とひき算(2)

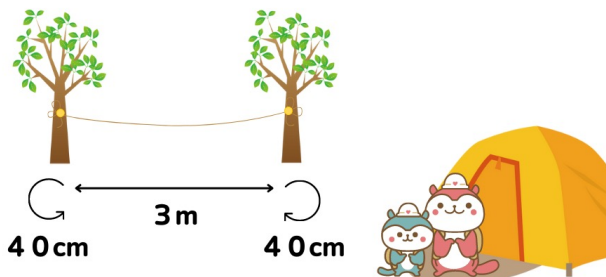
- 4 パックご飯をレンジで2分、レトルトカレーをレンジで1分40秒あたためます。1台のレンジを順番に使う時、全部あたためるのに何分何秒かかりますか？



しき
式

こた 答え ふん 分 びょう 秒

- 5 ももとももはキャンプに来ました。物干し用に木から木へロープをむすびます。木と木のあいだが3m、木にむすびつけるのにそれぞれ40cm使う場合、ロープは何m何cm必要ですか。



しき
式

こた 答え メートル m センチメートル cm

